

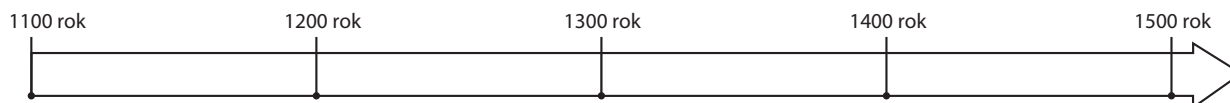
Polska w XIII–XV wieku

Test podsumowujący rozdział VII

imię i nazwisko	
klasa	data

1 Wykonaj polecenia.

0–2 p.



- a) Zaznacz na osi czasu datę odzyskania przez Polskę Pomorza Gdańskiego.
 b) Oblicz, ile lat upłynęło od bitwy pod Grunwaldem do odzyskania przez Polskę Pomorza Gdańskiego.

2 Podkreśl linijkę, w której umieszczono władców pochodzących wyłącznie z dynastii Jagiellonów.

0–1 p.

- A. Władysław Jagiełło, Władysław Warneńczyk, Kazimierz Jagiellończyk
 B. Jadwiga, Władysław Jagiełło, Kazimierz Jagiellończyk
 C. Kazimierz Wielki, Władysław Jagiełło, Kazimierz Jagiellończyk
 D. Kazimierz Jagiellończyk, Władysław Warneńczyk, Władysław Łokietek

3 Wymień trzy państwa, w których na przełomie XV i XVI wieku na tronie zasiadali przedstawiciele dynastii Jagiellonów.

0–3 p.

- _____
- _____
- _____

4 Oceń, czy poniższe zdania są prawdziwe, czy fałszywe. Zaznacz literę „P” przy zdaniach prawdziwych, a „F” – przy fałszywych.

0–4 p.

Trójpolówkę zaczęto stosować na ziemiach polskich w okresie rozbitcia dzielnicowego.	P	F
Ostatnim władcą Polski z dynastii Piastów był Władysław Łokietek.	P	F
Unia w Horodle została zawarta między Polską i Węgrami.	P	F
Szczerbiec to miecz koronacyjny królów Polski.	P	F








Grupa B

5 Wykonaj polecenia związane z zamieszczoną poniżej mapą.

0–5 p.



LEGENDA

- | | | | |
|---|---|---|---|
|  | Królestwo Polskie w 1333 roku |  | miejsce zawarcia pokoju między Polską a zakonem krzyżackim |
|  | ziemie przyłączone przez Kazimierza Wielkiego |  | ważniejsze zamki wzniesione za panowania Kazimierza Wielkiego |
|  | ziemie podporządkowane Królestwu Polskiemu w latach 1333–1370 |  | miejsce założenia pierwszej polskiej akademii |
|  | granica Królestwa Polskiego w 1370 roku | | |

a) Podkreśl właściwe dokończenie zdania.

Mapa przedstawia ziemie polskie w

A. XII wieku.

C. XIV wieku.

B. XIII wieku.

D. XV wieku.

b) Zapisz nazwy dwóch dzielnic, które wchodziły w skład państwa odziedziczonego przez Kazimierza Wielkiego.

c) Napisz, jaką krainę na południowym wschodzie przyłączył do swojego państwa Kazimierz Wielki.

d) Podaj nazwę miasta, w którym Kazimierz Wielki zawarł pokój z Krzyżakami.

6 Podaj dwa postanowienia II pokoju w Toruniu.

0–2 p.

- ---
- ---

7 Skreśl w nawiasie błędne informacje, tak aby powstały zdania prawdziwe.

0-2 p.

W 1374 roku szlachta uzyskała przywilej koszycki wydany przez (*Ludwika Węgierskiego / Władysława Jagiełłę*).

Konstytucja *Nihil novi* doprowadziła do (*wzmocnienia / osłabienia*) władzy królewskiej w Polsce.

8 Połącz pojęcia z odpowiednimi wyjaśnieniami. Jedno z nich jest niepotrzebne. Do litery z hasłem dopisz właściwą cyfrę z definicją.

0-3 p.

A. sobór

B. przywilej

C. kolonizacja

1. zakładanie nowych miast i wsi
2. specjalne uprawnienia nadane osobie lub grupie osób
3. zjazd dostojników kościelnych, któremu przewodniczy papież
4. przymusowa praca w polu, usługa świadczona przez chłopą na rzecz właściciela gruntu

A – _____ B – _____ C – _____

9 Ułóż podane wydarzenia w porządku chronologicznym, wstawiając w kratki cyfry od 1 do 5. Rozpocznij od wydarzenia, które miało miejsce najwcześniej.

0-1 p.

założenie Akademii Krakowskiej

bitwa pod Grunwaldem

unia w Krewie

bitwa pod Legnicą

wojna trzynastoletnia

10 Dopisz do każdego opisu postać historyczną, której on dotyczy.

0-2 p.

_____ – wielki mistrz zakonu krzyżackiego; poległ w bitwie pod Grunwaldem.

_____ – arcybiskup gnieźnieński; podejmował działania na rzecz zjednoczenia ziem polskich po okresie rozbicia dzielnicowego.

11 Napisz, kto i w jakim celu sprowadził na ziemie polskie zakon krzyżacki.

0-2 p.
